

ЛАБОРАТОРНАЯ РАБОТА № 1

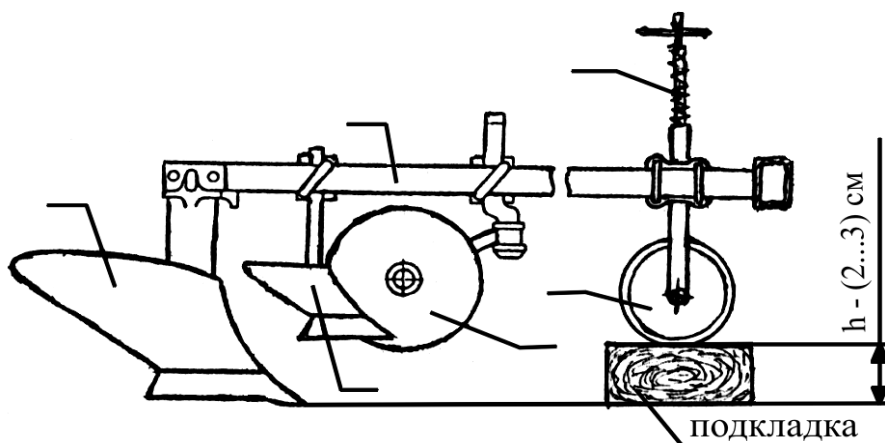
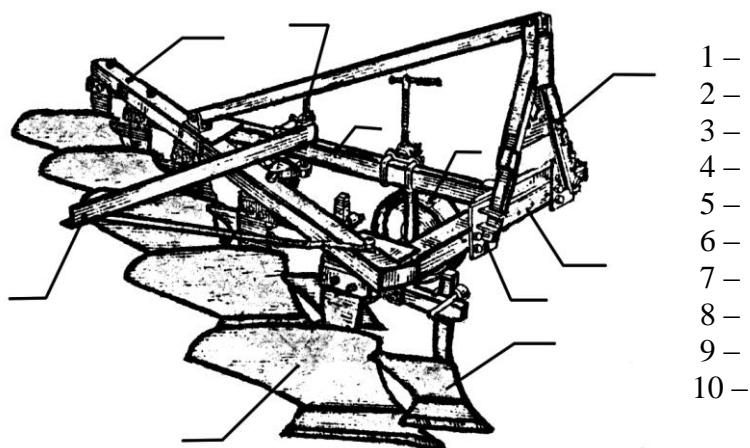
Тема: **ПЛУГИ ОБЩЕГО И СПЕЦИАЛЬНОГО НАЗНАЧЕНИЯ.**

Плуг лемешный навесной ПЛН-5-35. Назначение _____

Агрегатирование _____

Число корпусов _____ ; ширина захвата одного корпуса _____

Устройство



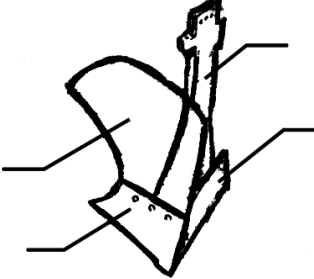
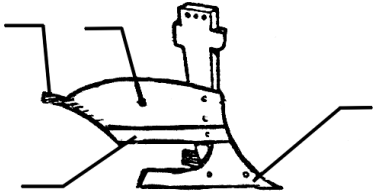
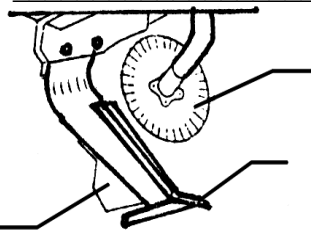
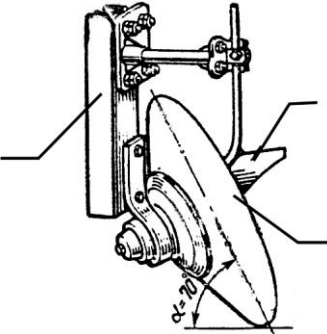
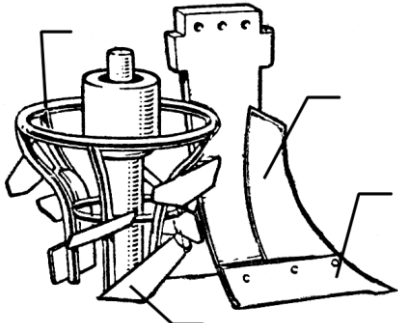
Из указанных на рисунке позиций назовите рабочие и служебные органы плуга и их назначение.

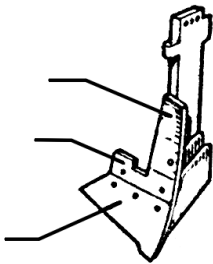
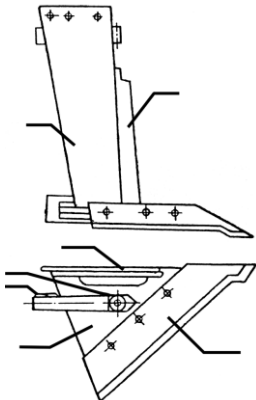
Рабочие органы:

Служебные органы: _____

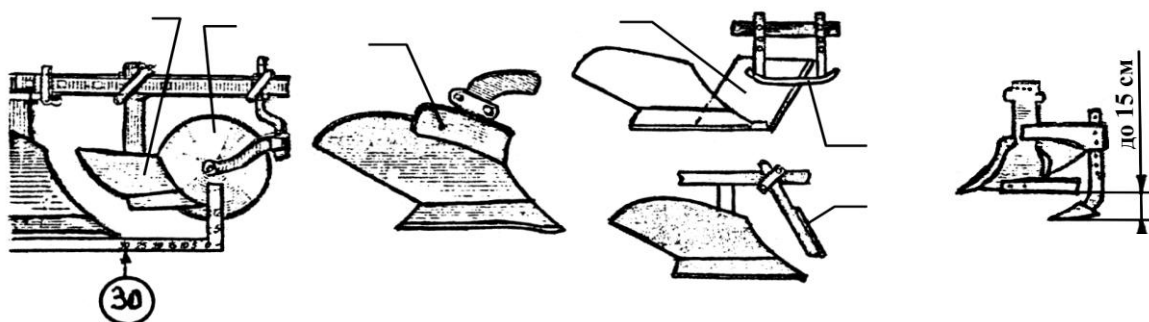
Процесс работы _____

КОРПУС ПЛУГА

Корпуса	Название и назначение
Тип _____ 	1) _____ 2) _____ 3) _____ 4) _____ Для _____ _____
Тип _____ 	1) _____ 2) _____ 3) _____ 4) _____ Для _____ _____
Тип _____ 	1) _____ 2) _____ 3) _____ 4) _____ Для _____ _____
Тип _____ 	1) _____ 2) _____ 3) _____ α – _____ Для _____ _____
Тип _____ 	1) _____ 2) _____ 3) _____ 4) _____ Для _____ _____

Тип _____ 	1) _____ 2) _____ 3) _____ Для _____ _____ _____
Тип _____ 	1) _____ 2) _____ 3) _____ 4) _____ 5) _____ 6) _____ 7) _____ Для _____ _____ _____

ПРЕДПЛУЖНИК, УГЛОСНИМ, НОЖИ, ПОЧВОУГЛУБИТЕЛЬ



Рабочие органы и их назначение:

1 - _____
 2 - _____
 3 - _____
 4 - _____
 5 - _____
 6 - _____
 7 - _____
 8 - _____

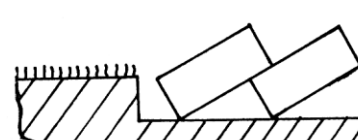
Укажите, на какой схеме показана вспашка с предплужником и углосником



а -



б -



в -